

段考錦囊

 名師學院™
年級：國中二年級

範圍：上學期第一次段考

科目：社會

重點整理



名師學院™

www.kut.com.tw

一、一分鐘準備段考

- 歷史：
 - 闖上課本，要能回想起每個單元的時代與特色
 - 理解歷史事件的原因與經過，清楚歷史人物的地位與影響
- 地理：
 - 看到圖表要能判讀其中的資訊
 - 地形、氣候、水文、人口、交通、產業等，定義與各區域特色要清楚
- 公民：
 - 每個專有名詞都能了解
 - 能用生活週遭的例子來複習課本中的概念
- 利用名師學院系列產品，反覆觀看、補強弱點

二、重點回顧

➤ 【歷史】中國上古遺址

1. 舊石器時代：打製石器。

名稱	時間	人種	發現地點	生活狀況
北京人	舊石器時代早期 (距今約 50 萬年)	猿人	北京西南 房山縣周 口店	<ul style="list-style-type: none"> ◆ <u>可以直立行走</u> ◆ <u>採集、漁撈、狩獵</u> ◆ <u>已知用火取暖、照明、燒烤食物</u>
山頂洞人	舊石器時代晚期 (距今約 25,000 年)	真人 (體質已和現代 人差不多)	北京西南 房山縣周 口店	<ul style="list-style-type: none"> ◆ 已知埋葬死者，<u>有宗教觀念</u> ◆ 用獸骨作成骨針 ◆ 用獸齒製成裝飾品，<u>已有審美觀念</u> ◆ <u>有家庭組織</u>
結論：中國人種起源於本土				

2. 新石器時代：磨製石器，距今約 8,000 ~ 10,000 年，黃河流域發現的遺址： 仰韶文化、半坡文化、龍山文化。

仰韶文化 (彩陶文化)	半坡文化 (半坡村文化)	龍山文化 (黑陶文化)
<ul style="list-style-type: none"> ◆ 名稱：河南省滎池縣仰韶村被發現，故稱之。 ◆ 特色：<u>繪有圖案的彩陶</u>。 	<ul style="list-style-type: none"> ◆ 發現地點：黃河支流的<u>渭河台地</u>。 ◆ 類型：屬於仰韶文化。 ◆ 農業：抗旱性強的粟、黍、稷(小米的一種)。 ◆ 居住型態：<u>半地穴建築</u>(半穴居)。 	<ul style="list-style-type: none"> ◆ 發現地點：<u>山東省歷城縣龍山鎮</u>。 ◆ 特色：<u>黑陶薄如蛋殼</u>。 ◆ 建築技術：<u>夯土</u>。

此外，分佈在長江中游的：大溪文化、屈家嶺文化、長江下游的：良渚文化、河姆渡文化；東北遼河流域的紅山文化、東南沿海：大坨坑文化等發現於西元前 5000 年左右遺址。這都證明了中國古代文明並非源自一地，而是多元並立。

➤ 【歷史】中國的傳說時代

1. 盤古：開天闢地，天地形成。
2. 女媧：捏土做人，煉石補天，**反映母系社會**。
3. 三皇：
 - 燧人氏：鑽木取火，對應舊石器早期文化。
 - 伏羲氏：飼養牲畜、發明八卦、制訂嫁娶，對應舊石器晚期至新石器早期文化。
 - 神農氏：播種五穀、研究醫藥，對應新石器中晚期之後的文化。
4. 五帝（黃帝、顓頊、帝嚳、堯、舜）
 - a. 黃帝
發明曆法、文字（倉頡）、舟車、房舍、種麻、養蠶（嫫祖）、製布、杵臼、炊具等等。後打敗炎帝後代和蚩尤，成為天下共主。亦被尊為**中華民族始祖**。
 - b. 堯、舜
以「**傳賢不傳子**」的「**禪讓**」政治，反映部落社會，共主由各部落推選產生的模式。當堯建立「唐」，舜建立「虞」，國都均在今山西省境內。

➤ 【地理】中國的位置與鄰國

1. 絕對位置

- (1) 中國約位於東經 73° ~ 135°、北緯 4° ~ 53°之間，居東半球和北半球。
- (2) 範圍
 - a. 經度：國土東西經度相差約 63°，**橫跨 4 個時區**（每 15° 為 1 個時區，故 $63 \div 15 = 4$ ），但為方便統治，統一以「**北京時間**」報時。
 - b. 緯度：國土南北緯度相差約 50°，大部分位於中緯度地區。

2. 相對位置

- (1) 中國位於亞洲大陸東南方，東臨太平洋，西北深入歐亞大陸。
- (2) 陸上相鄰：朝鮮、俄羅斯、蒙古、哈薩克、吉爾吉斯、塔吉克、阿富汗、巴基斯坦、喀什米爾、印度、尼泊爾、不丹、緬甸、寮國、越南。
- (3) 海上相望：韓國、日本、臺灣、菲律賓、馬來西亞、印尼、汶萊。
- (4) 中國的北方為外患最多、領土喪失最多之地區。陸上國界中與俄羅斯的國界最長，缺乏天然屏障。

➤ 【地理】中國的地形與氣候

1. 地形

中國的地形複雜多樣：西部多山地、高原、盆地，東部多平原、丘陵。且地勢西高東低，成階梯狀，可分為 3 級。

項目	高度	主要地形	地形舉例	影響
第一級階梯	4,000 公尺以上	高原、高山	青藏高原、柴達木盆地、青海湖盆地	1. <u>河川發源於西部山地</u> ， <u>順勢東流</u> ，水力資源蘊藏豐富 2. <u>西高東低的地形</u> ， <u>利於海洋暖溼氣流深入內陸</u> ，乾冷的冬季季風長驅南下，增強了季風的強度
第二級階梯	1,000 ~ 2,000 公尺	高原、盆地	黃土高原、雲貴高原、蒙古高原、準噶爾盆地、塔里木盆地、四川盆地	
第三級階梯	1,000 公尺以下	平原、丘陵	東南丘陵、東北平原	



2.氣候


中國的氣候類型豐富，主要是依據氣溫、雨量及地形的差異作為分類的指標。

項目	分布	類型	特徵
季風氣候	中國東南部	熱帶季風	1 月月均溫 18°C 以上，全年高溫多雨
		副熱帶季風	1 月月均溫介於 0 ~ 18°C 之間，夏熱冬暖
		溫帶季風	1 月月均溫低於 0°C，夏熱冬寒
乾燥氣候	深居內陸的蒙新地區	溫帶沙漠	年雨量少於 250mm
		溫帶草原	年雨量介於 250 ~ 500mm
高地氣候	青藏高原、藏南縱谷、滇西縱谷、雲貴高原	高地氣候	受高度影響，氣候帶和植物帶呈垂直分布



➤ **【公民】國家與民主制度**

1. 國家

項目	主要內容	
構成要素	人民	具有該國國籍者，為該國之人民
	土地	包含領陸、領空、領海，以及特殊領土的延伸
	主權	分為對內的統治權及對外獨立自主的權力
	政府	負責制訂與執行法令的政治組織
型態		

2. 民主政治

項目	主要內容
民意政治	政府施政以人民的意見為依歸；「民之所好而好之，民之所惡而惡之」
法治政治	依循法律治理國家， 無論是政府或人民 ，均須遵守法律規定
責任政治	官員執行政策失敗要負政治責任下臺，有違法行為要負法律責任接受制裁
政黨政治	政黨之間進行公平公開的競爭， 經由選舉實現政黨輪替

精選試卷及詳解™

LEARNING
SMART

www.kut.com.tw

考試日期僅供參考

國二社會（1）第一單元主題2地形段考

範圍： 地形

考試日期： 2014/08/26

適用年級： 八年級

適用科目： 社會

題型： 單選題：15題

一、單選題

1.()

附圖為中國大陸三級階梯分布示意圖。其中「第二階梯」的區域內，以哪兩種地形為主？



(A)盆地、高原 (B)丘陵、高原 (C)平原、丘陵 (D)平原、盆地

2.()

中國地形複雜多樣，主要地形有山地、高原、盆地、平原、丘陵。請問，哪兩種地形所占的比例最高？

(A)平原、丘陵 (B)丘陵、盆地 (C)盆地、山地 (D)山地、高原

3.()

中國的土地由 5 種地形交錯分布，地形上可將大興安嶺沿太行山到雲貴高原東緣連成一線，請問：此線的西半部以哪 3 種地形為主？

(A)高原、丘陵、盆地 (B)丘陵、盆地、山地 (C)山地、高原、盆地 (D)平原、丘陵、盆地

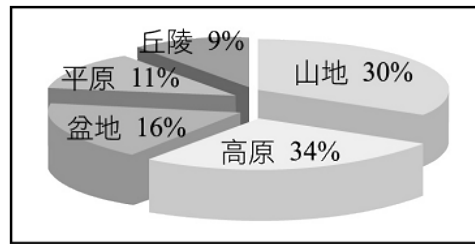
4.()

下列山脈呈東北—西南走向者為何？

(A)天山山脈 (B)秦嶺 (C)大興安嶺 (D)崑崙山

5.()

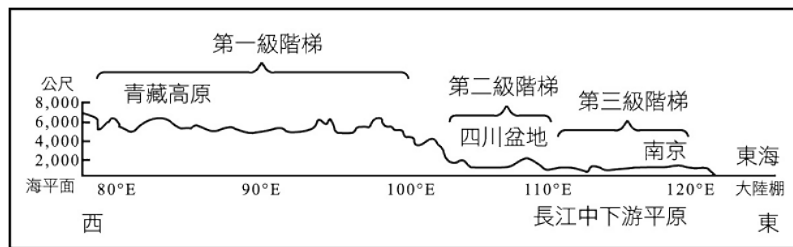
附圖是用來表示中國各類地形面積所占比例的圖，這種圖的名稱為何？



(A)曲線圖 (B)點圖 (C)柱狀圖 (D)圓餅圖

6.()

附圖是用來表示中國三級地勢階梯的示意圖，此種圖的名稱為何？



(A)圓餅圖 (B)長條圖 (C)地形剖面圖 (D)等高線圖

7.()

暖溼氣流容易深入中國內地，提供充沛雨水，此現象與下列哪一項地形的特點關係最密切？

(A)地形起伏很大 (B)地形錯綜複雜 (C)地勢西高東低 (D)高大山脈綿長

8.()

中國主要山脈走向有下列 4 種：(甲)東西走向；(乙)南北走向；(丙)東北—西南走向；(丁)西北—東南走向。其中以哪兩種走向最多？

(A)甲乙 (B)甲丙 (C)乙丙 (D)丙丁

9.()

中國重要的地形分界線有：(甲)大興安嶺；(乙)太行山；(丙)小興安嶺；(丁)雲貴高原東緣；(戊)秦嶺。上述哪 3 者的連線是「以東則地勢低平，以西則地勢高聳」？

(A)甲乙丙 (B)乙丙戊 (C)甲乙丁 (D)乙丁戊

10.()

「中國不僅有低於海平面的吐魯番窪地，也有世界最高的山脈——喜馬拉雅山。」此一敘述最足以說明哪一項地理事實？

(A)主要河川多由西向東流入 (B)地勢高低起伏很大
(C)地勢向東逐級下降 (D)疆域面積廣闊

11.()

有關中國四大平原與其分布地區的配對，下列哪一組是正確的？

- (A)松遼平原——東北地區 (B)珠江三角洲——華北地區
(C)長江中下游平原——華南地區 (D)黃淮海平原——華中地區

12.()

中國河川中下游平原多由哪一項作用形塑而成？

- (A)溶蝕 (B)搬運 (C)堆積 (D)侵蝕

13.()

中國大陸地區海岸線以沙岸和岩岸兩類為主，其分界是下列何者？

- (A)長江口 (B)甬江口 (C)閩江口 (D)珠江口

14.()

下列有關中國四大高原的敘述，何者錯誤？

- (A)青藏高原為世界屋脊，高原上雪山連綿，看得見冰河地形
(B)蒙古高原地面平坦，大多為一望無際的原野，景象單調
(C)黃土高原是世界上最大的黃土分布區，高原上的黃土具有垂直壁立性
(D)雲貴高原崎嶇不平，冰河地形發達

15.()

「高原上雪山連綿，冰河廣布，是中國面積最大的高原。」請問上述引句中的高原為何？

- (A)蒙古高原 (B)雲貴高原 (C)青藏高原 (D)黃土高原

國二社會（1）第一單元主題2地形段考

範圍： 地形
適用年級： 八年級

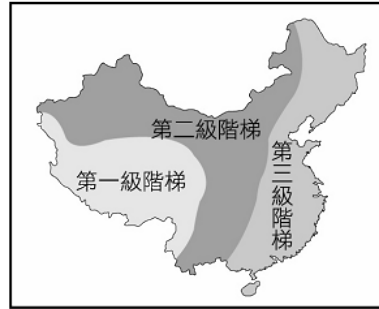
考試日期： 2014/08/26
適用科目： 社會

題型： 單選題：15題

一、單選題

1. (A)

附圖為中國大陸三級階梯分布示意圖。其中「第二階梯」的區域內，以哪兩種地形為主？



(A)盆地、高原 (B)丘陵、高原 (C)平原、丘陵 (D)平原、盆地

解析

中國地勢西高東低，呈三級階梯狀，第二級階梯的地形高度多在 1,000~2,000 公尺左右，以蒙古、黃土、雲貴等高原及大型盆地為主。

2. (D)

中國地形複雜多樣，主要地形有山地、高原、盆地、平原、丘陵。請問，哪兩種地形所占的比例最高？

(A)平原、丘陵 (B)丘陵、盆地 (C)盆地、山地 (D)山地、高原

解析

中國以山地、高原的面積最大，約占全國面積的 2/3。

3. (C)

中國的土地由 5 種地形交錯分布，地形上可將大興安嶺沿太行山到雲貴高原東緣連成一線，請問：此線的西半部以哪 3 種地形為主？

(A)高原、丘陵、盆地 (B)丘陵、盆地、山地 (C)山地、高原、盆地 (D)平原、丘陵、盆地

解析

將大興安嶺沿太行山到雲貴高原東緣連成一線，以西是中國的第一、二級階梯，地形以山地、高原和盆地為主。

4. (C)

下列山脈呈東北—西南走向者為何？

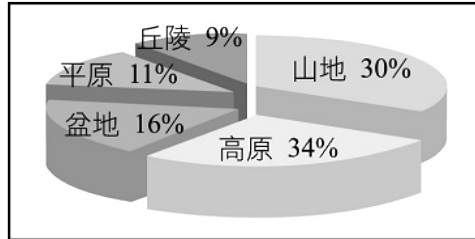
(A)天山山脈 (B)秦嶺 (C)大興安嶺 (D)崑崙山

解析

天山山脈、秦嶺、崑崙山皆為東西向山脈，而大興安嶺則呈東北—西南走向。

5. (D)

附圖是用來表示中國各類地形面積所占比例的圖，這種圖的名稱為何？



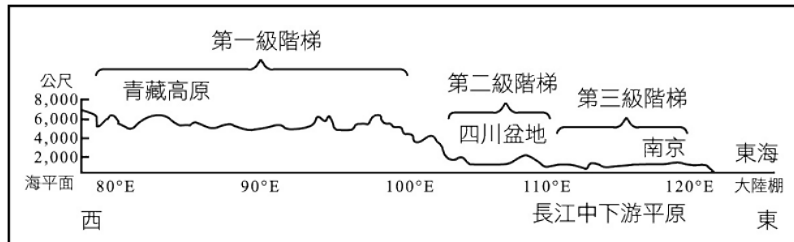
(A)曲線圖 (B)點圖 (C)柱狀圖 (D)圓餅圖

解析

圓餅圖是一種被分割成若干個扇形的圓形圖，每個扇形的面積與代表項目的次數或數量成比例。

6. (C)

附圖是用來表示中國三級地勢階梯的示意圖，此種圖的名稱為何？



(A)圓餅圖 (B)長條圖 (C)地形剖面圖 (D)等高線圖

解析

本圖是可以顯示地勢高低的地形剖面圖。

7. (C)

暖溼氣流容易深入中國內地，提供充沛雨水，此現象與下列哪一項地形的特點關係最密切？

(A)地形起伏很大 (B)地形錯綜複雜 (C)地勢西高東低 (D)高大山脈綿長

解析

中國地勢西高東低，有利於太平洋暖溼氣流深入內陸，提供雨水。

8. (B)

中國主要山脈走向有下列 4 種：(甲)東西走向；(乙)南北走向；(丙)東北—西南走向；(丁)西北—東南走向。其中以哪兩種走向最多？

(A)甲乙 (B)甲丙 (C)乙丙 (D)丙丁

解析

受到南方印度板塊和北方歐亞板塊碰撞的影響，使中國主要山脈呈東西向；而東面山脈再受到太平洋板塊撞擊，故多呈東北—西南走向。

9. (C)

中國重要的地形分界線有：(甲)大興安嶺；(乙)太行山；(丙)小興安嶺；(丁)雲貴高原東緣；(戊)秦嶺。上述哪 3 者的連線是「以東則地勢低平，以西則地勢高聳」？

- (A)甲乙丙 (B)乙丙戊 (C)甲乙丁 (D)乙丁戊

解析

中國在地形上，可將大興安嶺沿太行山到雲貴高原東緣連成一線，以東為第三級階梯，地勢低平；以西則地勢逐漸高聳，是中國重要的地形分界。

10. (B)

「中國不僅有低於海平面的吐魯番窪地，也有世界最高的山脈——喜馬拉雅山。」此一敘述最足以說明哪一項地理事實？

- (A)主要河川多由西向東流入 (B)地勢高低起伏很大
(C)地勢向東逐級下降 (D)疆域面積廣闊

解析

中國地形深受板塊運動影響，使全國地勢高度落差大。

11. (A)

有關中國四大平原與其分布地區的配對，下列哪一組是正確的？

- (A)松遼平原——東北地區 (B)珠江三角洲——華北地區
(C)長江中下游平原——華南地區 (D)黃淮海平原——華中地區

解析

珠江三角洲位於華南地區；長江中下游平原位於華中地區；黃淮海平原位於華北地區。

12. (C)

中國河川中下游平原多由哪一項作用形塑而成？

- (A)溶蝕 (B)搬運 (C)堆積 (D)侵蝕

解析

河川流經中下游地區時，因流幅變寬、流速變慢而逐漸堆積形成平原。

13. (B)

中國大陸地區海岸線以沙岸和岩岸兩類為主，其分界是下列何者？

- (A)長江口 (B)甬江口 (C)閩江口 (D)珠江口

解析

甬江口以北，均為河川沖積而成的沙岸（山東、遼東半島除外）；以南則多為岩岸。

14. (D)

下列有關中國四大高原的敘述，何者錯誤？

- (A) 青藏高原為世界屋脊，高原上雪山連綿，看得見冰河地形
- (B) 蒙古高原地面平坦，大多為一望無際的原野，景象單調
- (C) 黃土高原是世界上最大的黃土分布區，高原上的黃土具有垂直壁立性
- (D) 雲貴高原崎嶇不平，冰河地形發達

解析

雲貴高原地處低緯且高度約 1,000~2,000 公尺，無法看見冰河地形，其地形崎嶇是受當地的石灰岩地形影響。

15. (C)

「高原上雪山連綿，冰河廣布，是中國面積最大的高原。」請問上述引句中的高原為何？

- (A) 蒙古高原
- (B) 雲貴高原
- (C) 青藏高原
- (D) 黃土高原

解析

青藏高原在地形上被畫分為第一級階梯，因地勢高聳，有「世界屋脊」之稱，高原內冰河地形發達，雪山連綿。